

Choisir dans le menu déroulant la réponse correcte :  $<$  ou  $>$  ou  $=$  .

3,41 choisir une o... 3,7

— laisser vide —

$<$

$>$

$=$

Choisir une autre façon d'écrire l'opération proposée, pour obtenir le même résultat.

$$24 \times 12 = \dots$$

Cocher la bonne réponse.

- $2 \times 12 \times 12$
- $24 \times 10 \times 2$
- $2 \times 6 \times 2$
- $36 \times 2$

Dans le nombre 2 756,13 le 2 correspond au chiffre des :

Cocher la bonne réponse.

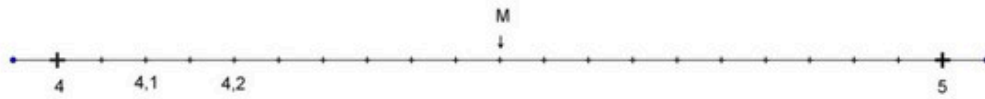
- centaines
- dizaines
- unités
- milliers

Retrouver le nombre décomposé. Cocher la bonne réponse.

$$900\,000 + 80\,000 + 40 + 1$$

- 980 041
- 9 841
- 98 041
- 9 800 041

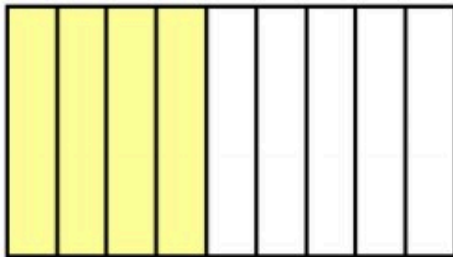
Observer cette demi-droite graduée.



Quelle est l'abscisse du point M ? Cocher la bonne réponse.

- 4,9  
 4,8  
 4,5  
 4,6

Cocher la bonne réponse.



On a colorié les :

- $\frac{5}{4}$  de la figure  
  $\frac{4}{5}$  de la figure  
  $\frac{4}{9}$  de la figure  
  $\frac{5}{9}$  de la figure

Ranger les cinq nombres suivants dans l'ordre croissant en faisant glisser les étiquettes.

<  <  <  <

Voici un tableau de proportionnalité :

5	2,5	7,5	10
7	?	10,5	14

Quelle est la donnée manquante ? Cocher la bonne réponse.

- 3,5  
 3  
 4,5  
 4

Dans un magasin, si j'achète 6 ballons, je paierai 12 euros.

Combien paierai-je si j'achète 3 ballons ?

Cocher la bonne réponse.

- 4 euros  
 2 euros  
 3 euros  
 6 euros

Pour faire une pâte à crêpes pour 4 personnes, il faut :

Pour 8 personnes, combien faut-il d'ingrédients ?

- 500 grammes de farine  
 - 500 ml de lait  
 - 4 oeufs  
 - 2 cuillères à soupe de sucre  
 - 100 grammes de beurre fondu

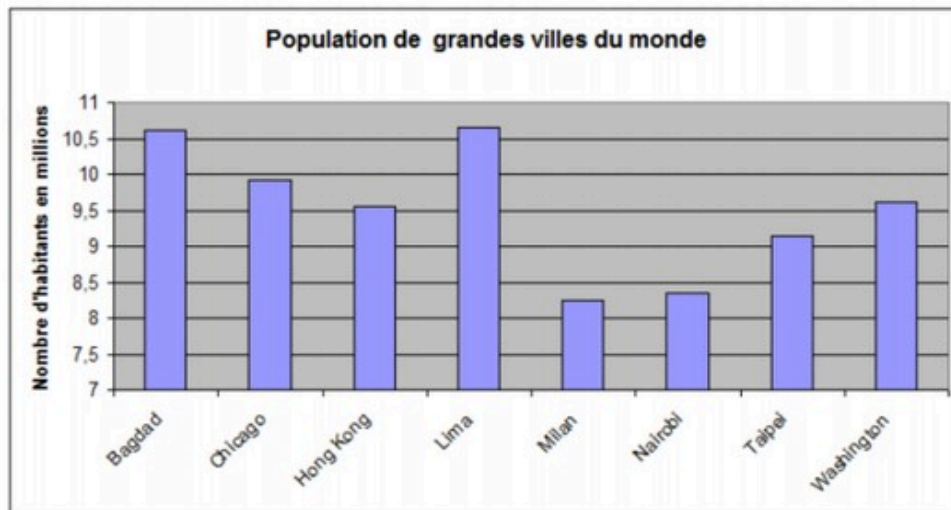
- 500 grammes de farine  
 - 1 litre de lait  
 - 2 oeufs  
 - ½ cuillère à soupe de sucre  
 - 50 grammes de beurre fondu

- 500 grammes de farine  
 - 1 litre de lait  
 - 4 oeufs  
 - 2 cuillères à soupe de sucre  
 - 100 grammes de beurre fondu

- 250 grammes de farine  
 - 1 litre de lait  
 - 4 oeufs  
 - 2 cuillères à soupe de sucre  
 - 100 grammes de beurre fondu



Ce graphique représente le nombre d'habitants de quelques grandes villes du monde.



Quelle ville a le plus d'habitants ?

choisir une option ▾

— laisser vide —

Lima

Milan

Chicago

Washington

Quelle ville a le moins d'habitants ?

choisir une option ▾

— laisser vide —

Lima

Milan

Chicago

Washington

Alex se rend à l'épicerie et achète 1 boîte de ravioli, 3 concombres et 7 tomates.

La caissière lui réclame 6,35 €. Alex paye avec un billet de 10 €.

Quelle est la somme rendue par la caissière ?

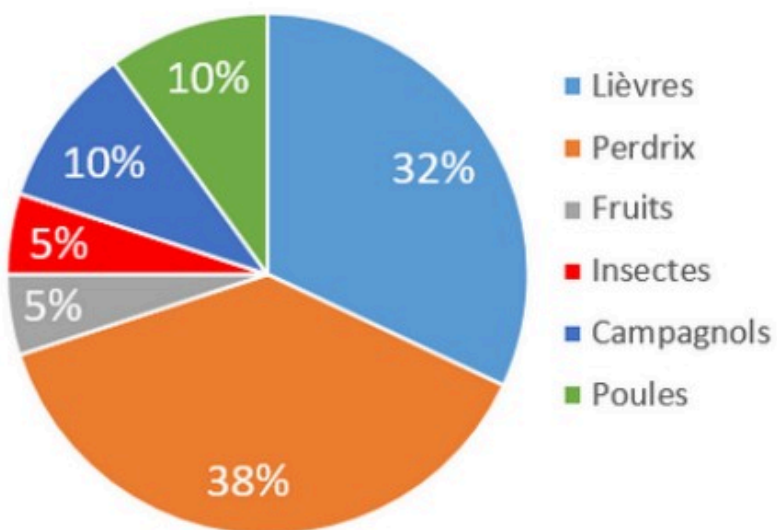
Choisir le bon calcul.

**Cocher la bonne réponse.**

- $6,35 - 10 =$
- $10 - 6,35 =$
- $1 + 3 + 7 - 10 =$
- $1 + 3 + 7 - 6,35 - 10 =$

Ce graphique donne le régime alimentaire du renard.

### Alimentation du renard



Quel aliment le renard mange-t-il le plus ?

- Perdrix
- Lièvres
- Poules
- Insectes